



































A

Write the amounts.

  £ <input type="text" value="15"/>	 £ <input type="text"/>	  £ <input type="text"/>
  £ <input type="text"/>	  £ <input type="text"/>	  £ <input type="text"/>
  £ <input type="text"/>	 £ <input type="text"/>	  £ <input type="text"/>

B

Write the amounts.

  £ <input type="text" value="15"/>	  £ <input type="text"/>	  £ <input type="text"/>
  £ <input type="text"/>	  £ <input type="text"/>	  £ <input type="text"/>
  £ <input type="text"/>	  £ <input type="text"/>	  £ <input type="text"/>

C

Make these amounts. Use the number of notes and coins shown.

£8.00 <input type="text" value="£5"/> <input type="text" value="£2"/> <input type="text" value="£1"/>	£15.20 <input type="text"/> <input type="text"/> <input type="text"/>
£11.50 <input type="text"/> <input type="text"/> <input type="text"/>	£41.00 <input type="text"/> <input type="text"/> <input type="text"/>
£24.00 <input type="text"/> <input type="text"/> <input type="text"/>	£30.50 <input type="text"/> <input type="text"/> <input type="text"/>

